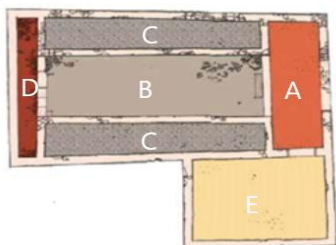


Feladatlap I.

1, Írd le a Mithras szentély részeinek nevét:



- A, Előcsarnok
- B, Áldozati és szertartás tér/cella
- C, Pódium
- D, Kultuszkép helye
- E, Gyülekezőterem

2, Kik lehettek a Mithras vallásban beavatott tagok?

a, Férfiak

b, Nők

c, Szabad férfiak

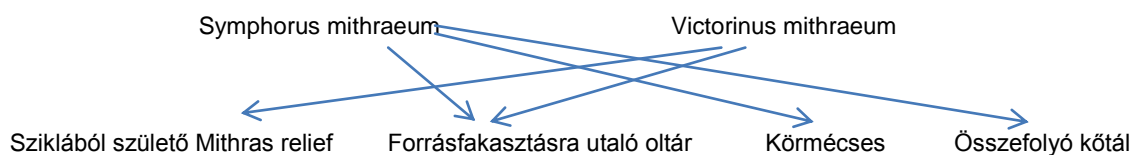
3, Hány Mithras szentélyt találtak Aquincumban?

a, 4

b, 5

c, 25

4, Kösd össze a szentélyek neveit a hozzájuk tartozó tárgyakkal!



5, Nevez meg jeleneteket Mithras életéből!

Sziklából születés

Forrást fakaszt a sziklából

Marhatolvajlás

Bikaölés

Sol és Mithras közös lakomája

6, Hogyan szólították meg Mithras istent a neki szentelt oltárokon?

a, Legyőzhetetlen Nap

b, Legyőzhető Hold

c, Gyűrűtlen Szaturnusz

7, Kösd össze a képeket a szavakkal:



a, Lakoma

b, Víz

c, Pinea



8, Hány beavatási fokozaton keresztül juthattak el a hívek a legmagasabb szintre?

a, 5

b, 7

c, 8

9, Kösd össze a beavatási fokozatok neveit a hozzá tartozó jelképekkel!



a, Napfutár

b, Holló

c, Katona

10, Hogyan nevezték a legmagasabb fokozatú beavatottat?

a, Atya

b, Törpapa

c, Téalapó